

Mapa okolí školy

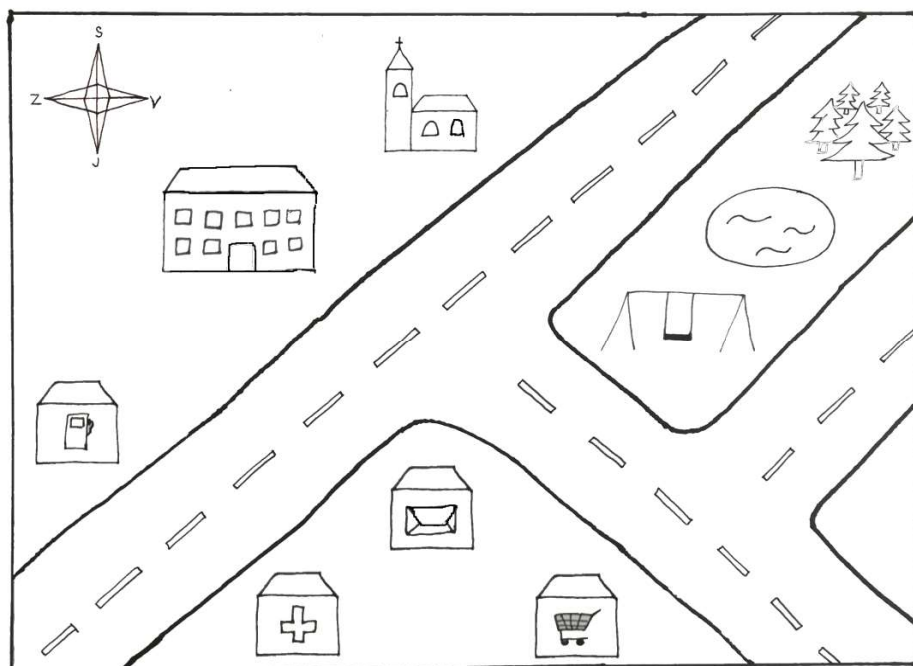
Každá mapa nebo plán mají svůj **název**. Jaký je název tohoto plánu?

Pro snadnější orientaci v mapě se používají různé značky, jejichž význam najdeme v **legendě**. Dokážeš s pomocí legendy určit, co najdeme naší mapě?

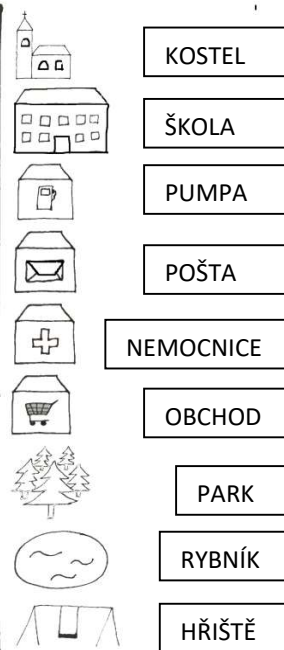
Abychom mohli vyrazit správným směrem, je důležité si mapu správně natočit. K tomu slouží **světové strany**. Horní okraj mapy směřuje vždy k severu, spodní okraj k jihu. Levý okraj mapy směřuje na západ a pravý na východ. Který objekt na našem plánu je od školy směrem na jih? Který objekt je od nemocnice směrem na východ?

Vymysli názvy ulic, které vidíš na plánu. Jak by se mohly jmenovat?

Okolí školy



Legenda:



Mapa okolí školy

Název plánu je: _____



Značka  znamená: _____

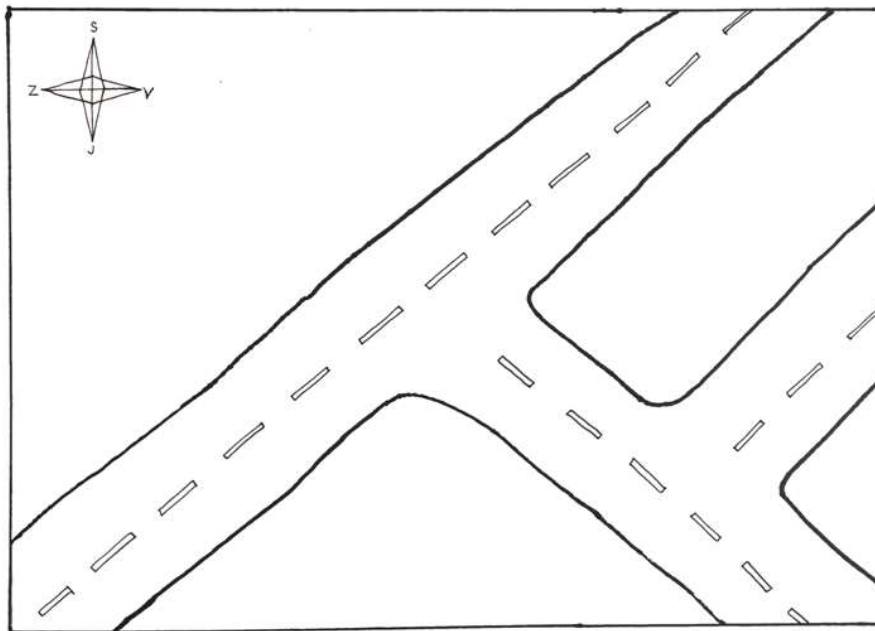
Značka _____ znamená: _____

Najdi v plánu poštu a zakroužkuj ji červenou barvou.

Najdi v plánu rybník a vybarvi ho modrou barvou.

Zelenou barvou zakroužkuj budovu, která je v plánu nejvíc na severu.

Okolí školy




Legenda:



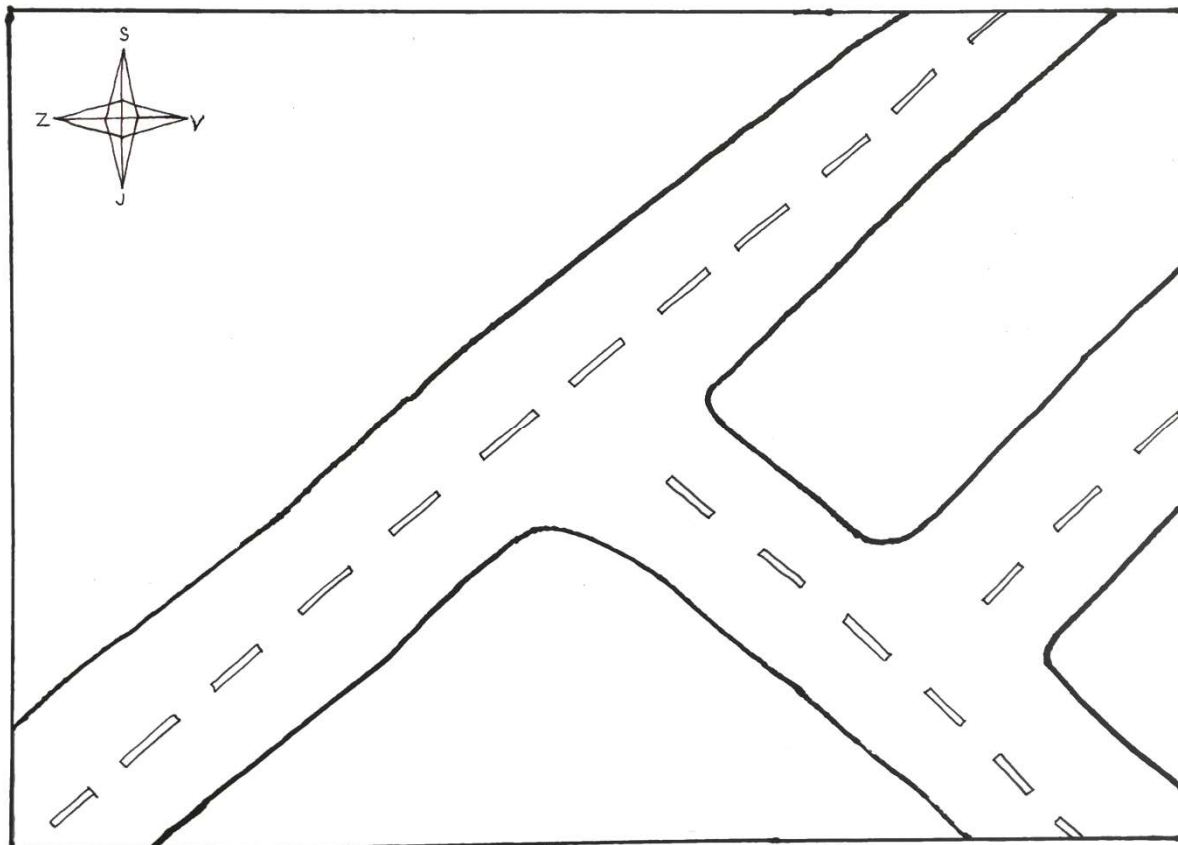
Vytvoř mapu okolí školy

Vytvoř si vlastní plán okolí školy. Vystřihni značky a vlep je libovolně do plánu. Můžeš vybrat jen některé, ale nezapomeň na školu.



Vytvoř si vlastní mapu:

Název mapy:



Legenda:

Symbol:

Význam:
